
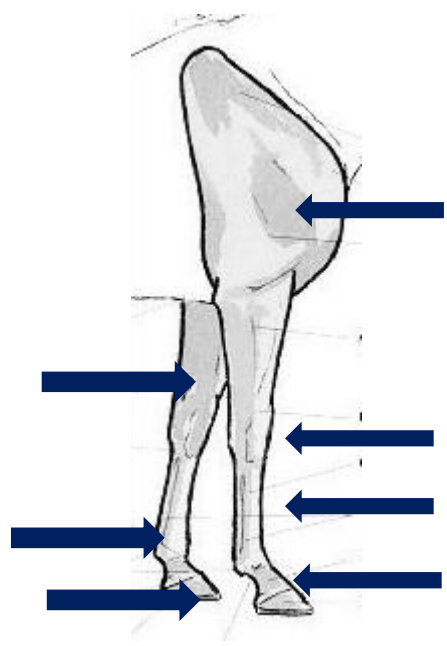


Galop d'or

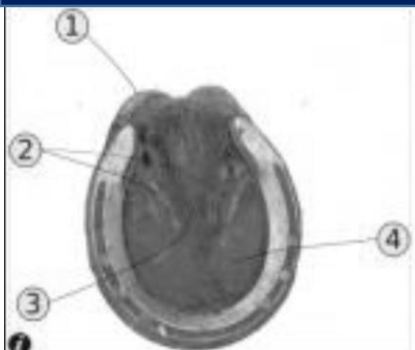
1. Indiquer les parties de la tête du poney en face de chaque flèche.



2. Indiquer les parties des membres du poney en face de chaque flèche.



3. Citer les 4 parties du pied du poney.

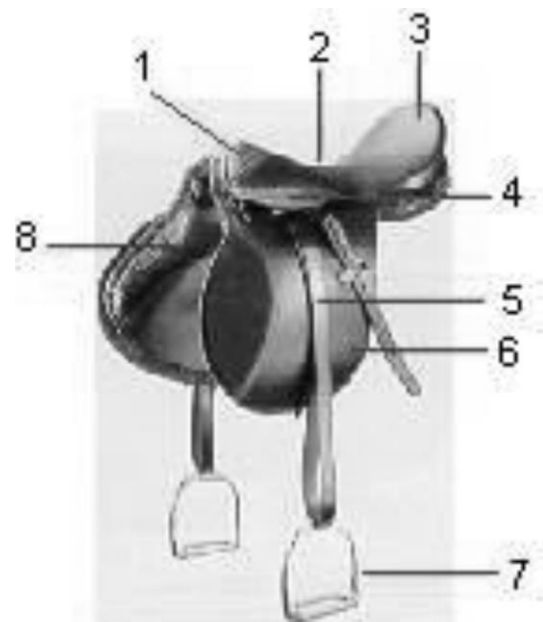


- 1.
- 2.
- 3.
- 4.

4. Citer les cinq sens du poney.

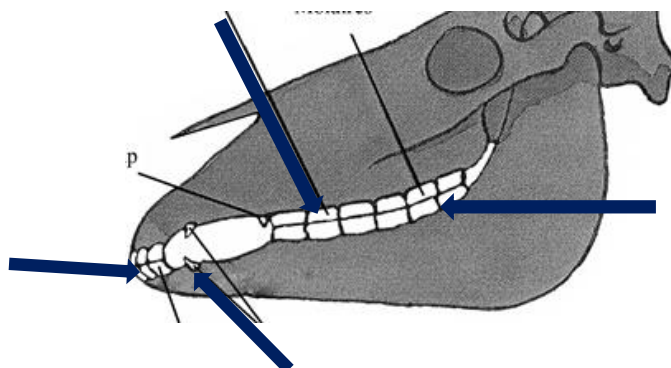
- | | |
|----|----|
| 1. | 4. |
| 2. | |
| 3. | 5. |

5. Indiquer les parties de la selle par rapport aux numéros de l'image.



- 1.
- 2.
- 3.
- 4.
- 5.
- 6.
- 7.
- 8.

6. Nommer en face de chaque flèche les 4 types de dent du poney.



7. Vrai ou faux : on dit d'un petit cercle que c'est une volte.

VRAI

FAUX

8. On démarre une diagonale...? Cocher la bonne réponse.

Au milieu du petit côté du manège

A la première lettre du grand côté du manège

N'importe où

9. Que fait-on à l'issue d'un doubler ? Cocher la bonne réponse.

On reste toujours à la même main

Il est possible : de rester à la même main, ou de changer de main

On change toujours de main

Cadre réservé à l'enseignant